

Consigne : Attention à bien gérer votre temps !

Traitez les exercices dans l'ordre que vous voulez

**I. Définitions (2 points)**

**5 minutes**

Population active : .....

.....

.....

Chômage : .....

.....

.....

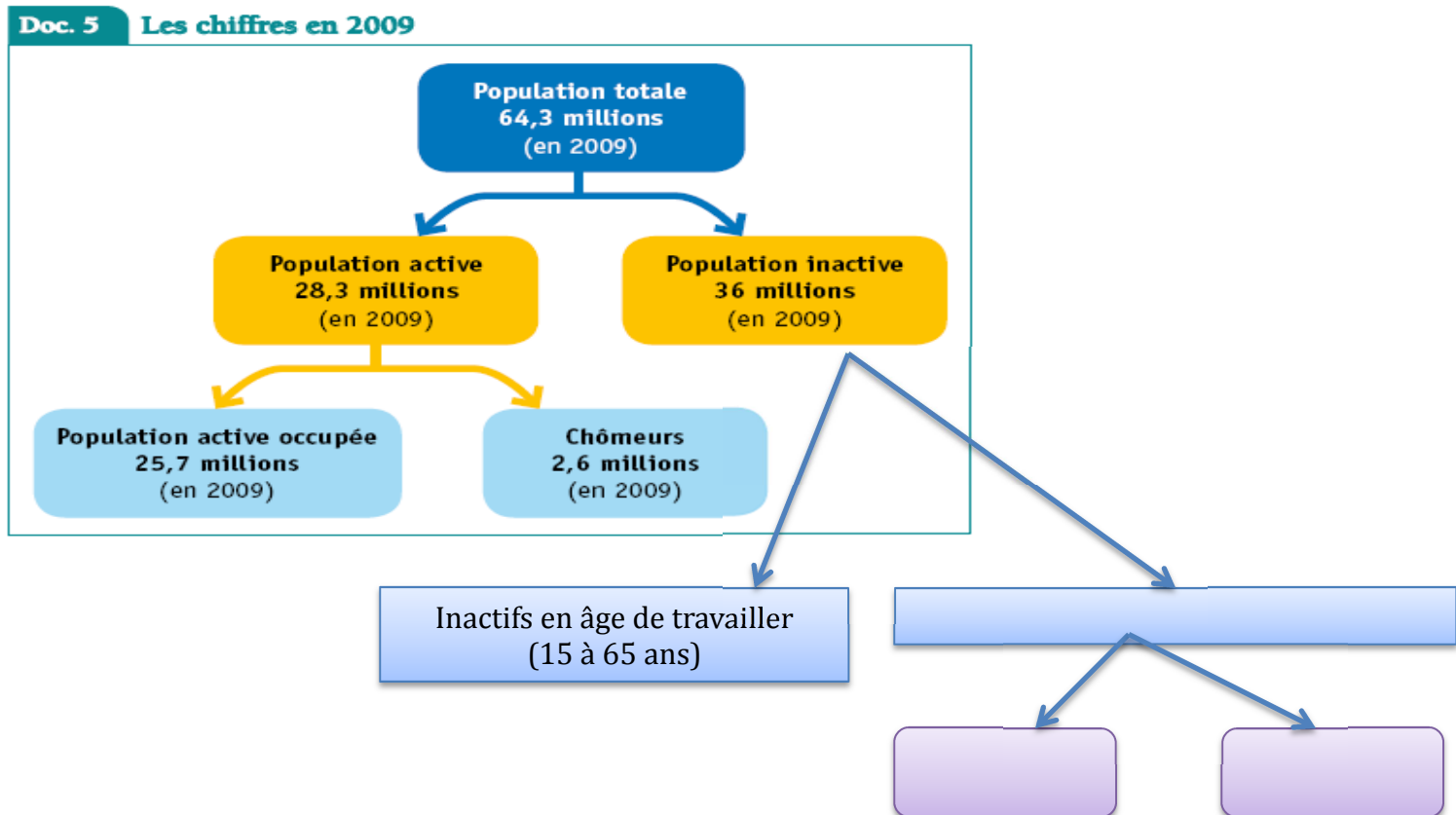
**II. Répartition de la population active (3 points)**

**5 minutes**

1. Complétez le schéma ci-dessous et faites les calculs nécessaires (1,5 point)

2. Classez les exemples suivants en positionnant les lettres dans le schéma (1,5 point) :

- a. Etudiant
- b. jeunes de 25 ans recherchant son premier emploi
- c. retraité
- d. caissier chez Carrefour,
- e. nouveau né
- f. infirmier indépendant.



### III. L'évolution de la population active (7 points)

15 minutes

#### Doc. 1

Structure de l'emploi selon le plus haut diplôme obtenu en France depuis 1982.  
(nombre d'emplois annuel moyen en milliers)

	Diplôme supérieur	Baccalauréat + 2 ans	Baccalauréat ou brevet professionnel	CAP, BEP ou autre diplôme de ce niveau	Brevet des collèges	Aucun diplôme ou CEP	Ensemble
<i>Année</i>							
1982	1 360,5	1 260,9	2 318,6	5 592,3	1 562,3	10 575,5	22 670,1
1988	1 805,8	1 675,0	2 745,5	6 452,5	1 638,9	8 437,5	22 755,2
1994	2 385,0	2 239,3	2 912,5	6 860,0	1 651,6	6 719,2	22 767,6
2000	3 091,4	2 914,2	3 739,7	7 118,5	1 639,7	5 679,3	24 182,8
2006	3 894,0	3 527,2	4 442,5	6 715,1	1 990,5	4 605,1	25 174,3

Note : données de 1982 à 2006, corrigées pour les ruptures de série

Champ : France métropolitaine, population des ménages, personnes de 15 ans et plus

Source : Insee, enquêtes Emploi, (calculs Insee)

#### 1. Combien comptait-on d'emplois en 1982 ? (1 point)

.....

.....

.....

.....

#### 2. Combien de personnes sans aucun diplôme occupaient un emploi en 2006 ? (1 point)

.....

.....

.....

.....

#### 3. Vous transformerez le tableau ci-dessus en calculant la part de chaque niveau de diplôme dans l'emploi pour l'année 2006 comme cela a été fait pour l'année 1982. (1 point)

#### Structure de l'emploi selon le plus haut diplôme obtenu depuis 1982 (en %)

	Diplôme supérieur	Bac + 2	Bac ou brevet professionnel	CAP, BEP	Brevet des collèges	Aucun diplôme ou CEP	Total
1982	6	5,6	10,2	24,7	6,9	46,6	100
2006							

#### 4. Comment évolue la structure de l'emploi selon le diplôme en France depuis 1982 ? Vous répondrez en quelques lignes en prenant soin d'étayer vos affirmations à l'aide de données chiffrées. (1 points)

#### 5. Comment peut-on expliquer cette évolution des emplois ? (3 points) (répondez sur votre copie)

#### IV. Le taux de chômage (8 points)

25 minutes

1. Sachant que la population active s'élevait à 28.406.250 personnes en 2009 et que l'on comptait 2.727.000 chômeurs, calculez le taux de chômage global. Ecrivez le détail de votre calcul et la formule du taux de chômage (1 point).

.....

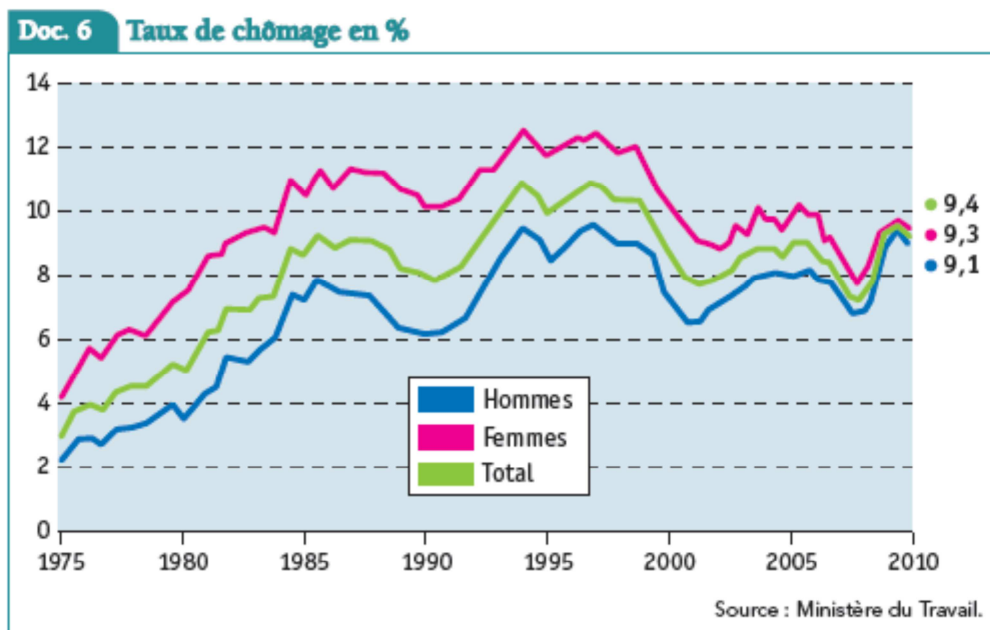
.....

.....

.....

.....

#### Doc. 2



Lecture des courbes : de haut en bas  
- Femmes  
- Total  
- Hommes

1. Calculez le taux de variation du chômage de 1975 à 2010 pour les trois catégories. (1 pt)

Ensemble : .....

Hommes : .....

Femmes : .....

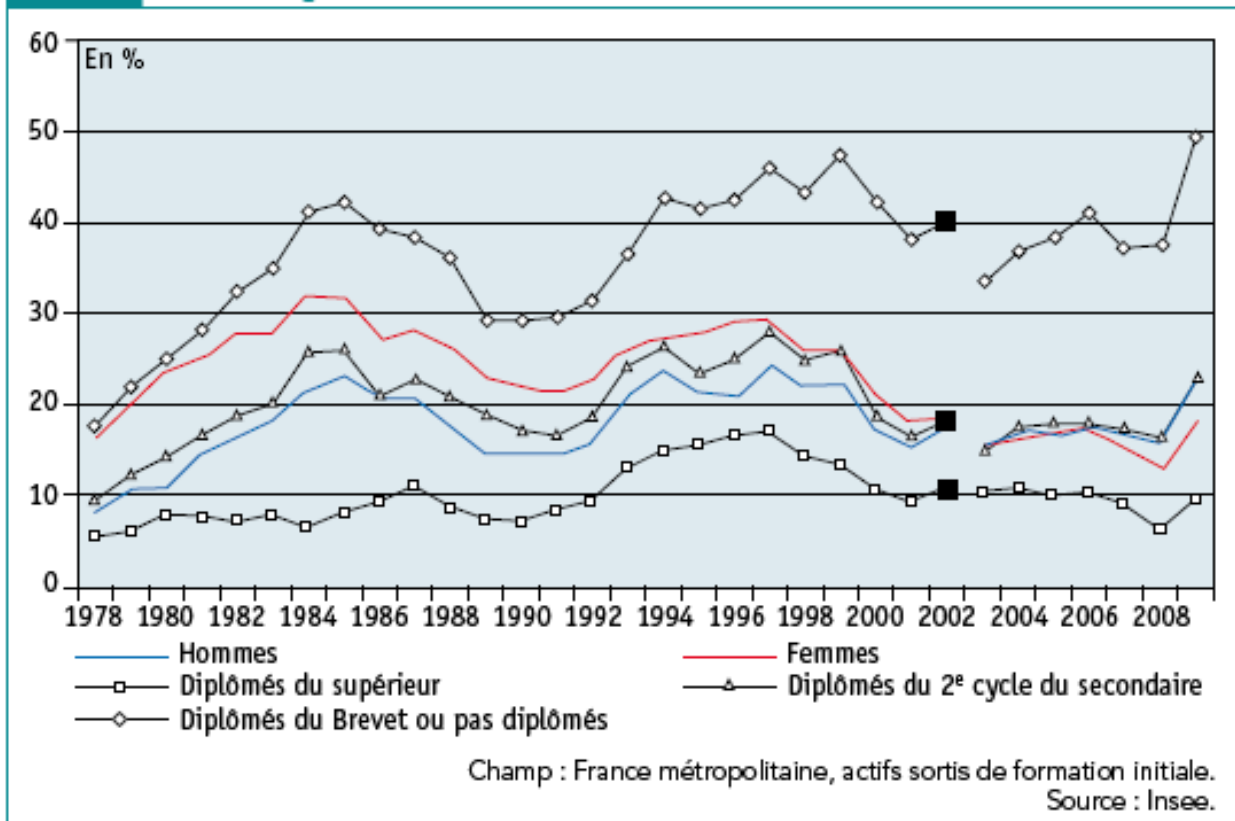
2. Comment le chômage a-t-il évolué de 1975 à 2010 (prenez en compte les trois courbes du document 3 et aidez vous de la question précédente (2 points).

3. Le diplôme protège-il les jeunes du chômage ? (4 points)

- Répondez sous la forme d'un **paragraphe argumenté**
- Répondez à l'aide de vos connaissances et en utilisant les données du graphique (doc. 3)
- Pensez à prendre en compte l'évolution dans le temps.
- Pensez également à comparer avec le taux de chômage de l'ensemble de la population active (doc. 2).
- Pensez à distinguez selon le sexe

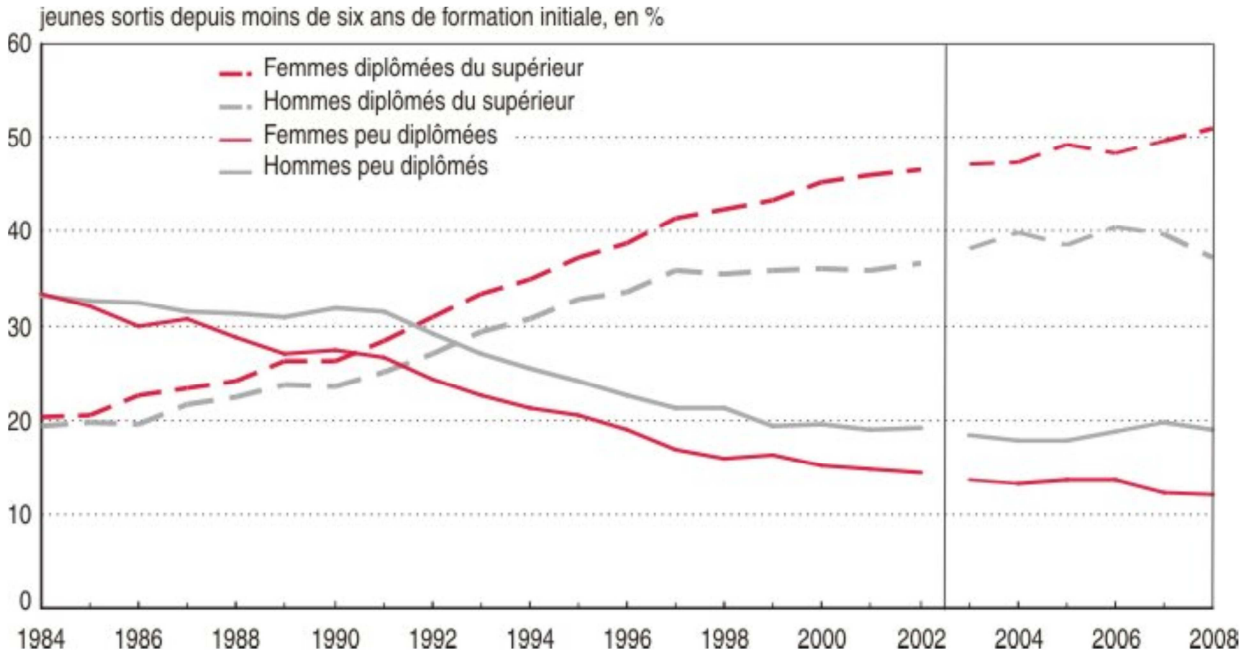
**Vous répondrez aux questions 2 et 3 sur votre copie**

**Doc. 10** Taux de chômage de 1 à 4 ans après la fin des études par diplôme et sexe depuis 1978



**V. Exercice bonus**

**5 minutes**



Note : la mise en place de l'enquête Emploi en continu entraîne un changement de série à partir de 2003.

Champ : France métropolitaine.

Source : Insee, enquêtes Emploi.

1. **Faites une phrase pour présenter la part des femmes et la part des hommes diplômés du supérieur en 2008.**
2. **Quelle est l'évolution de la formation des hommes et des femmes de 1984 à 2008 ? Pensez à faire des calculs pour étayer votre réponse**